

Xuño 2008

D E B U X O

T É C N I C O

BLOQUE 1

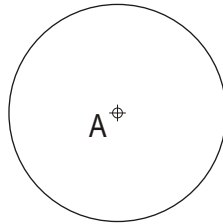
Resolver únicamente una de las cuestiones del bloque. CALIFICACIÓN: 3 puntos.

Resolver unicamente unha das cuestións do bloque. CUALIFICACIÓN: 3 puntos.

1A

Dibuja las circunferencias tangentes a otra de centro A, y a la recta r en el punto T.

Debuxa as circunferencias tanxentes a outra de centro A, e á recta r no punto T.



1B

Dibuja un octógono regular de lado 33 mm.

Debuxa un octógono regular de lado 33 mm.

BLOQUE 2


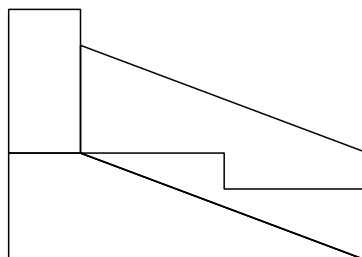
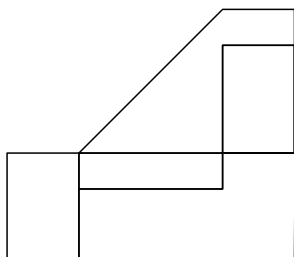
Resolver únicamente una de las cuestiones del bloque. CALIFICACIÓN: 3 puntos.

Resolver unicamente unha das cuestións do bloque. CUALIFICACIÓN: 3 puntos.

2A

Acotar, según la norma U.N.E, la pieza representada en sistema diédrico, y dibujar unha isometría sin coeficientes de reducción a escala E 1/1.

Acotar, segundo a norma U.N.E, a peza representada en sistema diédrico, e debuxar unha isometría sen coeficientes de reducción a escala E 1/1.



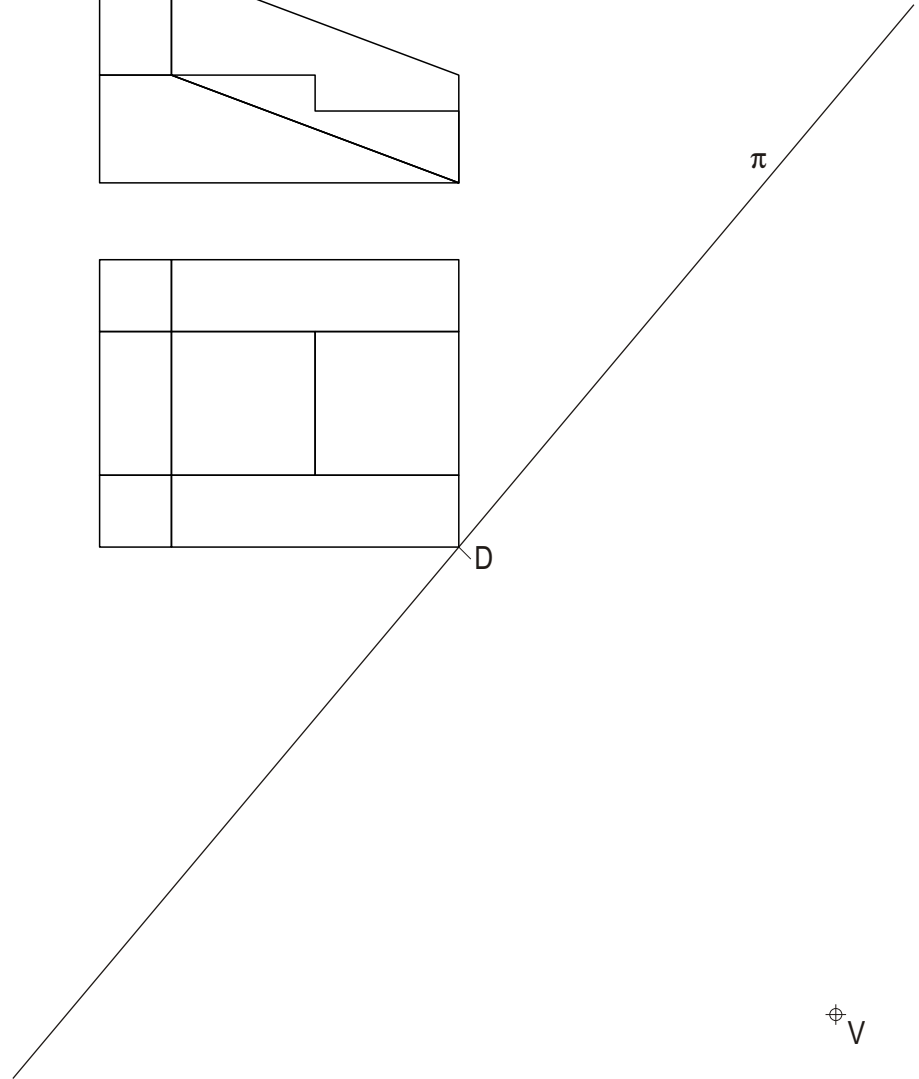
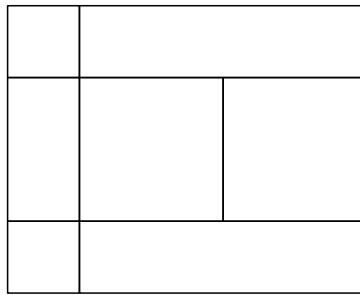
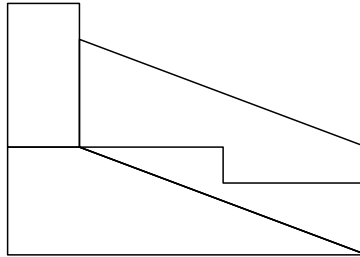
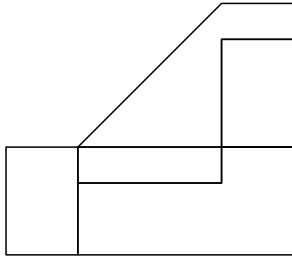
BLOQUE 2

Resolver únicamente una de las cuestiones del bloque. CALIFICACIÓN: 3 puntos.
 Resolver únicamente unha das cuestións do bloque. CUALIFICACIÓN: 3 puntos.

2B

Dadas las proyecciones diédricas de la figura, dibuja la perspectiva lineal de plano de cuadro vertical π desde el punto de vista V, considerando la línea de tierra LT, la línea de horizonte LH y el punto D. Escala 1/1.

Dadas as proxeccións diédricas da figura, debuxa a perspectiva liñal de plano do cadro vertical π dende o punto de vista V, considerando a liña de terra LT, a liña de horizonte LH e o punto D. Escala 1/1.



LH

LT

D

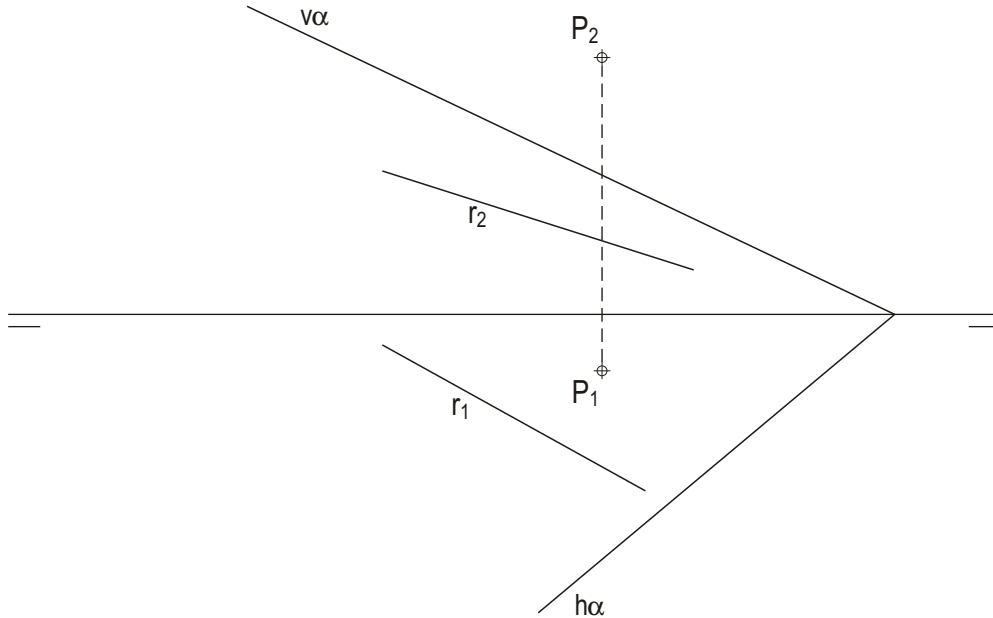
BLOQUE 2

Resolver únicamente una de las cuestiones del bloque. CALIFICACIÓN: 3 puntos.
 Resolver únicamente una das cuestións do bloque. CUALIFICACIÓN: 3 puntos.

3A

Localiza la intersección entre el plano α y otro plano que contiene a la recta r y al punto P .

Localiza a intersección dos entre o plano α e outro plano que contén a recta r e o punto P .



3B

Determina en primeira proyección la sección producida por el plano φ en el sólido representado, y la verdadera magnitud de la misma.

Determina en primeira proxección a sección producida polo plano φ no sólido representado, e a verdadeira magnitude da mesma.

