

D E B U X O

T É C N I C O

BLOQUE 1

Resolver únicamente una de las cuestiones del bloque. CALIFICACIÓN: 3 puntos.

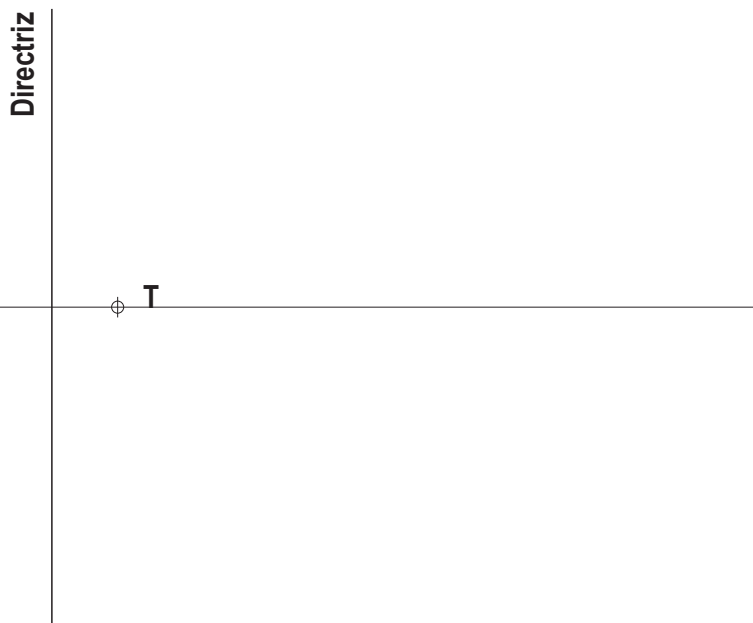
Resolver únicamente unha das cuestións do bloque. CALIFICACIÓN: 3 puntos.

1A

Construye un octógono regular cuyo lado es media proporcional entre dos segmentos $a=20$ mm. y $b=50$ mm.*Construe un octógono regular do que o lado é media proporcional entre dous segmentos $a=20$ mm. e $b=50$ mm.*

1B

Dibuja una parábola conocidos el vértice V y la directriz.

Debuxa unha parábola coñecidos o vértice V e a directriz.

BLOQUE 2

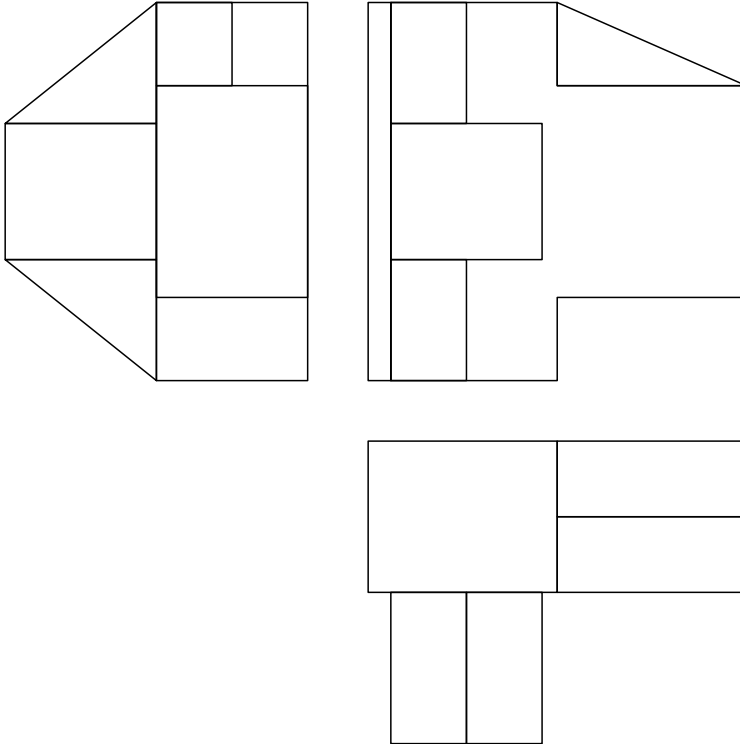
Resolver únicamente una de las cuestiones del bloque. CALIFICACIÓN: 3 puntos.

Resolver únicamente unha das cuestións do bloque. CALIFICACIÓN: 3 puntos.

2A

Dadas las proyecciones diédricas de la figura, acótalas según la norma UNE y dibuja una isometría sin coeficientes de reducción a escala E 1/1.

Dadas as proxeccións diédricas da figura, acoutaas segundo a norma UNE e debuxa unha isometría sen coeficientes de reducción a escala E 1/1.



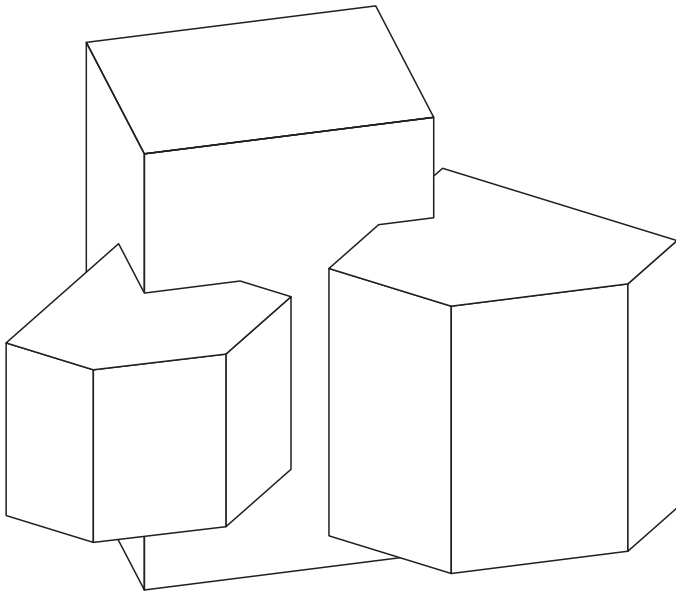
BLOQUE 2

Resolver únicamente una de las cuestiones del bloque. CALIFICACIÓN: 3 puntos.
Resolver únicamente unha das cuestións do bloque. CALIFICACIÓN: 3 puntos.

2B

Dibuja según la norma UNE la 1ª, 2ª y 3ª proyecciones diédricas de la figura. Escala E 1/1.

Debuxa segundo a norma UNE a 1ª, 2ª e 3ª proxeccións da figura. Escala E 1/1.



BLOQUE 3

Resolver únicamente una de las cuestiones del bloque. CALIFICACIÓN: 3 puntos.
 Resolver únicamente unha das cuestións do bloque. CALIFICACIÓN: 3 puntos.

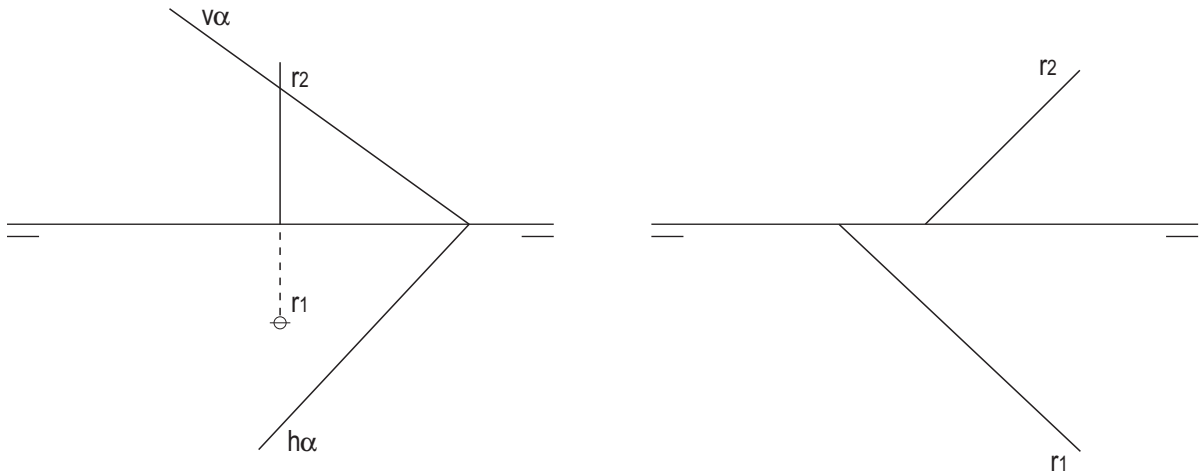
3A

Resolver los dos ejercicios:

- A) Intersección de la recta r con el plano α .
- B) Determina las trazas del plano perpendicular al horizontal H que contiene a la recta r .

Resolver os dous exercicios:

- A) Intersección da recta r co plano α .
- B) Determina as trazas do plano perpendicular ao horizontal H que contén a recta r .



3B

Dibuja en la 1ª, 2ª y 3ª proyecciones diedricas la sección que produce el plano en el tronco de cono.

Debuxa na 1ª, 2ª e 3ª proxeccións diedricas a sección que produce o plano no tronco de cono.

