

Xuño 2007

D E B U X O

T É C N I C O

## BLOQUE 1

Resolver únicamente una de las cuestiones del bloque. CALIFICACIÓN: 3 puntos.

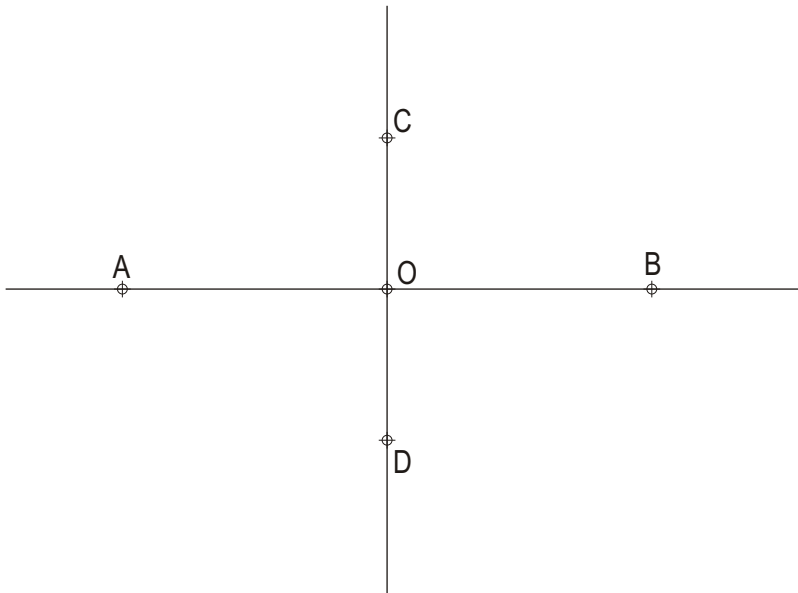
Resolver unicamente unha das cuestións do bloque. CUALIFICACIÓN: 3 puntos.

1A

Dibuja un pentágono y un decágono regulares inscritos en una circunferencia de radio  $r$  35 mm.*Debuxa un pentágono e un decágono regulares inscritos nunha circunferencia de raio  $r$  35 mm.*

1B

Dibuja una hipérbola conocidos sus ejes real e imaginario.

*Debuxa unha hipérbola coñecidos os seus eixos real e imaxinario.*

## BLOQUE 2

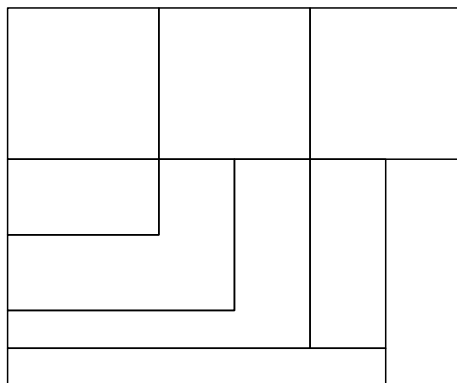
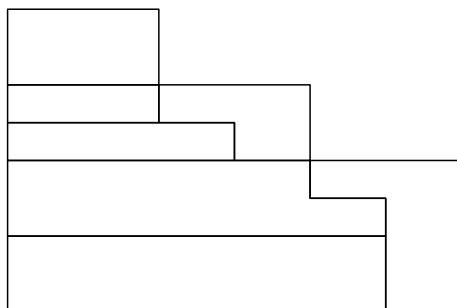
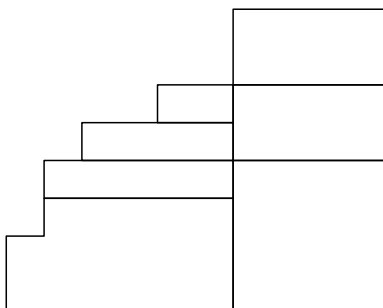
Resolver únicamente una de las cuestiones del bloque. CALIFICACIÓN: 3 puntos.

*Resolver unicamente unha das cuestións do bloque. CUALIFICACIÓN: 3 puntos.*

2A

Dadas las proyecciones diédricas de la figura, dibuja una isometría sin coeficientes de reducción a escala E 1/1.

*Dadas as proxeccións diédricas da figura, debuxa unha isometría sen coeficientes de reducción a escala E 1/1.*



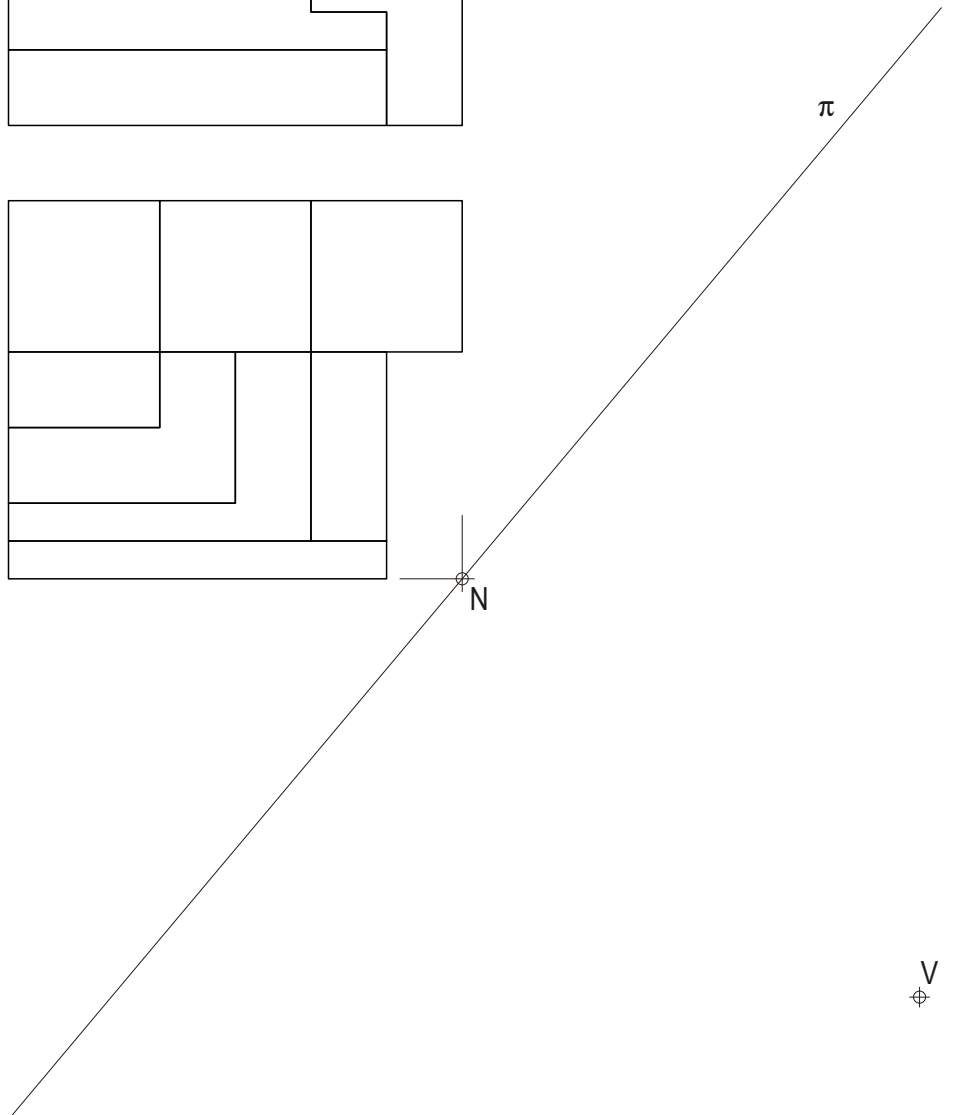
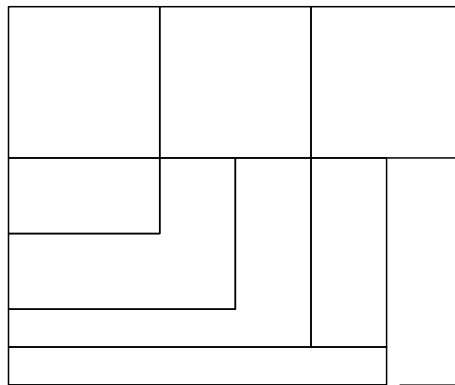
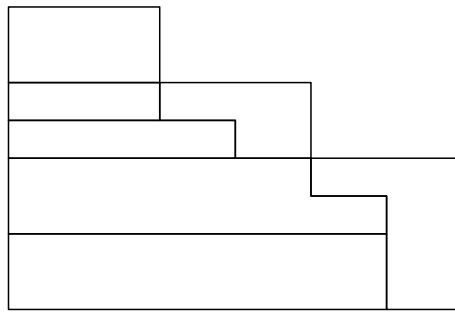
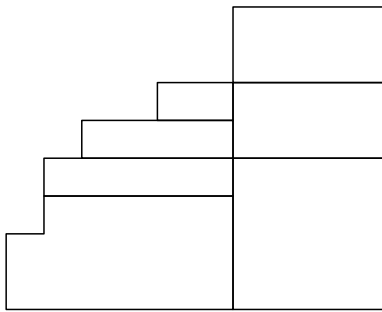
BLOQUE 2

Resolver únicamente una de las cuestiones del bloque. CALIFICACIÓN: 3 puntos.  
 Resolver únicamente unha das cuestións do bloque. CUALIFICACIÓN: 3 puntos.

2B

Dadas las proyecciones diédricas de la figura, dibuja la perspectiva lineal de plano de cuadro vertical  $\pi$  desde el punto de vista V, considerando la línea de tierra LT, la línea de horizonte LH y el punto N. Escala 1/1.

Dadas as proxeccións diédricas da figura, debuxa a perspectiva liñal de plano do cadro vertical  $\pi$  dende o punto de vista V, considerando a liña de terra LT, a liña de horizonte LH e o punto N. Escala 1/1.



LT

LT

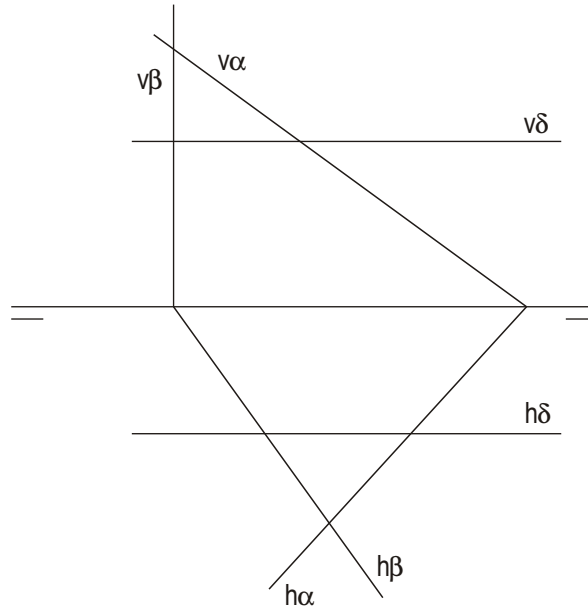
BLOQUE 2

Resolver únicamente una de las cuestiones del bloque. CALIFICACIÓN: 3 puntos.  
 Resolver únicamente una de las cuestiones del bloque. CUALIFICACIÓN: 3 puntos.

3A

Intersección de los planos  $\alpha, \beta$  y  $\delta$ .

Intersección dos planos  $\alpha, \beta$  e  $\delta$ .



3B

Dibuja en la 1ª, 2ª y 3ª proyecciones diédricas la sección que produce el plano en el tronco de cono.

Debuxa na 1ª, 2ª e 3ª proxeccións diédricas a sección que produce o plano no tronco de cono.

